

TEOREMA DE PITÁGORAS

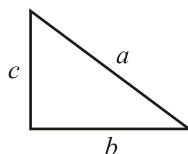
1. Los lados de un triángulo miden, respectivamente, 9 cm, 12 cm y 15 cm. Averigua si el triángulo es rectángulo.

Solución:

Según el teorema de Pitágoras, $a^2 = b^2 + c^2$. Como $15^2 = 9^2 + 12^2$, la respuesta es sí.

2. Los dos lados menores de un triángulo rectángulo miden 6 cm y 8 cm. ¿Cuánto mide el tercer lado?

Solución:

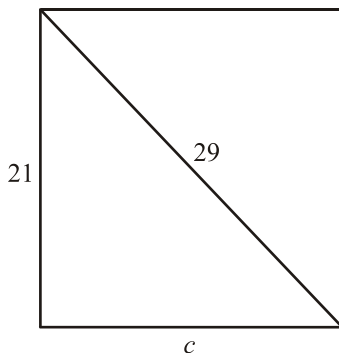


Por Pitágoras,

$$a^2 = b^2 + c^2 \rightarrow a^2 = 6^2 + 8^2 \rightarrow a^2 = 36 + 64 \rightarrow a = \sqrt{100} = 10 \text{ cm}$$

3. La diagonal de un rectángulo mide 29 cm y uno de sus lados mide 21 cm. ¿Cuánto mide el otro lado?

Solución:

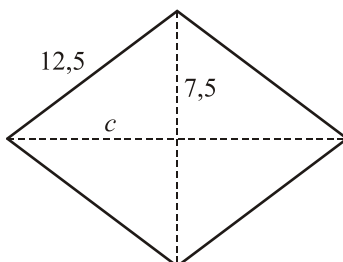


Por Pitágoras,

$$a^2 = b^2 + c^2 \rightarrow c^2 = a^2 - b^2 \rightarrow c^2 = 29^2 - 21^2 \rightarrow c = \sqrt{400} \rightarrow c = 20 \text{ cm}$$

4. El lado de un rombo mide 12,5 cm y una de sus diagonales mide 15 cm. ¿Cuánto mide la otra diagonal?

Solución:

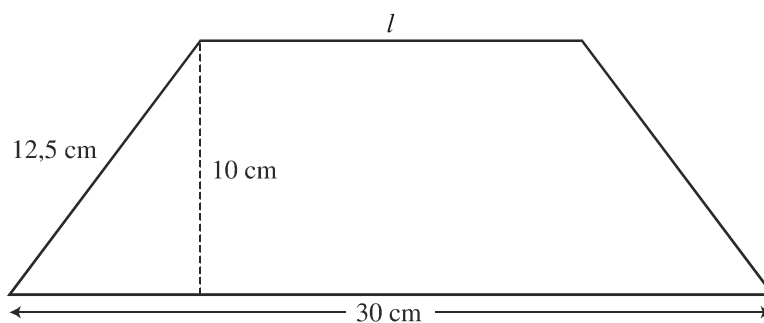


Por Pitágoras,

$$a^2 = b^2 + c^2 \rightarrow c^2 = a^2 - b^2 \rightarrow c^2 = 12,5^2 - 7,5^2 \rightarrow c = \sqrt{100} \rightarrow c = 10 \text{ cm}$$

La otra diagonal mide $10 \cdot 2 = 20$ cm.

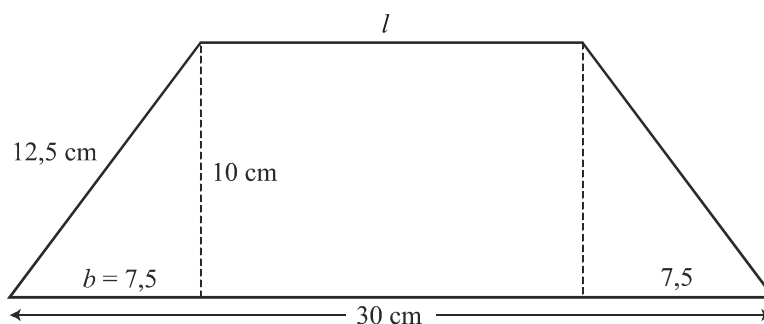
5. Observa la figura y calcula la longitud del lado l :



Solución:

Por Pitágoras,

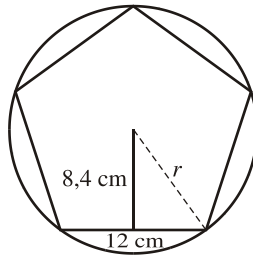
$$b^2 = a^2 - c^2 \rightarrow b^2 = 12,5^2 - 10^2 \rightarrow b = \sqrt{56,25} \rightarrow b = 7,5 \text{ cm}$$



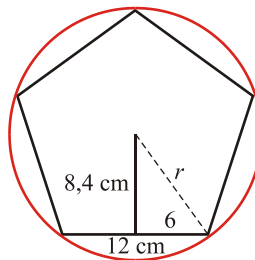
Así,

$$7,5 \cdot 2 = 15 \text{ cm} \rightarrow 30 - 15 = 15 \text{ cm} \rightarrow l = 15 \text{ cm}$$

6. Halla el radio de la circunferencia en la que está inscrito un pentágono regular de 12 cm de lado y 8,4 cm de apotema (aproxima hasta las décimas).



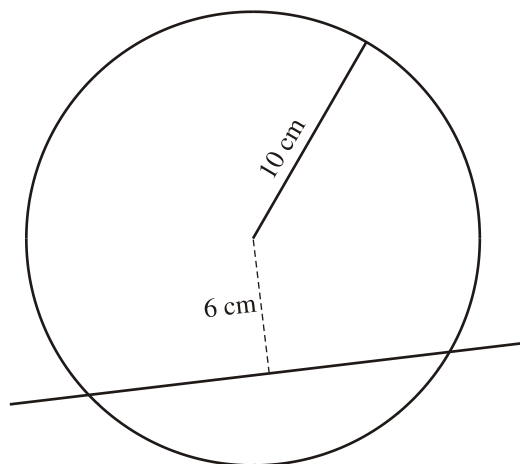
Solución:



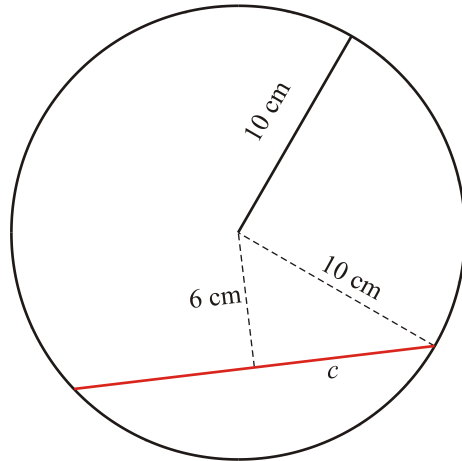
Si r es el radio,

$$r^2 = 6^2 + 8,4^2 \rightarrow r = \sqrt{106,56} \rightarrow r \approx 10,3 \text{ cm}$$

7. Una circunferencia de 10 cm de radio es cortada por una cuerda que está separada 6 cm del centro de la circunferencia. ¿Cuál es la longitud de la cuerda?



Solución:



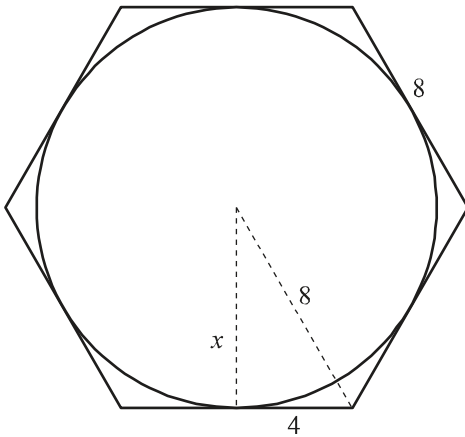
Por Pitágoras,

$$a^2 = b^2 + c^2 \rightarrow c^2 = a^2 - b^2 \rightarrow c^2 = 10^2 - 6^2 \rightarrow c = \sqrt{64} \rightarrow c = 8 \text{ cm}$$

La longitud de la cuerda es $8 \cdot 2 = 16 \text{ cm}$.

8. **Calcula el radio de la circunferencia inscrita en un hexágono regular de 8 cm de lado.**

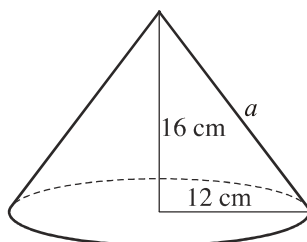
Solución:



Por Pitágoras,

$$8^2 = x^2 + 4^2 \rightarrow x^2 = 8^2 - 4^2 \rightarrow x = \sqrt{48} \approx 6,9 \text{ cm}$$

9. ¿Cuál es la distancia mínima que debe recorrer una hormiga para subir desde la base hasta el vértice del cono?



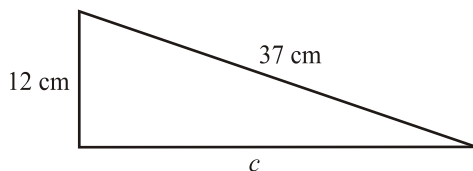
Solución:

Por Pitágoras,

$$a^2 = 16^2 + 12^2 \rightarrow a = \sqrt{400} \rightarrow a = 20 \text{ cm}$$

10. Calcula el área y el perímetro de un triángulo rectángulo cuya hipotenusa mide 37 cm y uno de los catetos mide 12 cm.

Solución:



Por Pitágoras,

$$a^2 = b^2 + c^2 \rightarrow c^2 = a^2 - b^2 \rightarrow c^2 = 37^2 - 12^2 \rightarrow c = \sqrt{1225} \rightarrow c = 35 \text{ cm}$$

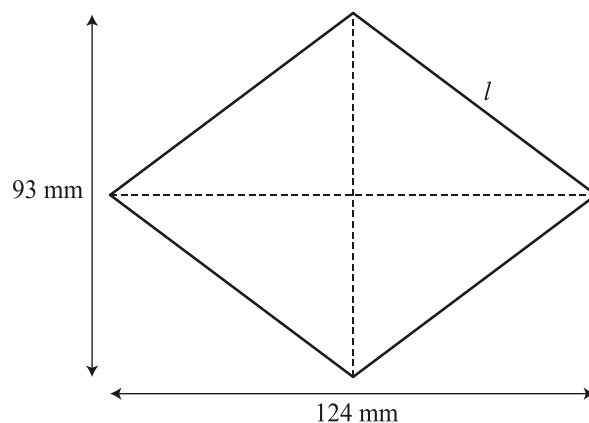
Así,

$$\text{Perímetro} = 35 + 12 + 37 = 84 \text{ cm}$$

$$S = \frac{c \cdot c'}{2} = \frac{12 \cdot 35}{2} = 210 \text{ cm}^2$$

11. Las dos diagonales de un rombo miden 124 mm y 93 mm. Calcula su área y su perímetro.

Solución:



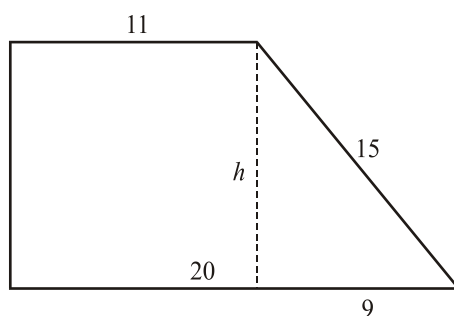
$$l^2 = \left(\frac{d}{2}\right)^2 + \left(\frac{D}{2}\right)^2 \rightarrow l^2 = 46,5^2 + 62^2 \rightarrow l = \sqrt{6006,25} \rightarrow l = 77,5 \text{ mm}$$

Así, el perímetro es: $77,5 \cdot 4 = 310 \text{ mm}$

$$\text{Y el área es: } S = \frac{D \cdot d}{2} = \frac{124 \cdot 93}{2} = 5766 \text{ mm}^2$$

12. Halla el área y el perímetro de un trapecio rectángulo de bases 11 cm y 20 cm, y lado inclinado de 15 cm.

Solución:

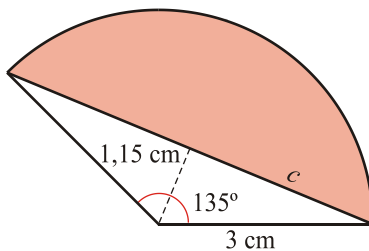


$$\text{Se tiene que } h^2 = 15^2 - 9^2 \rightarrow h = \sqrt{144} \rightarrow h = 12 \text{ cm}$$

$$\text{El área es: } S = \frac{(b + b') \cdot h}{2} = \frac{(20 + 11) \cdot 12}{2} = 186 \text{ cm}^2$$

Y el perímetro es: $11 + 12 + 20 + 15 = 58 \text{ cm}$

13. Calcula la superficie y el perímetro de este segmento circular:



$$c^2 = a^2 - b^2 \rightarrow c^2 = 3^2 - 1,15^2 \rightarrow c = 2,8 \text{ cm}$$

$2,8 \cdot 2 = 5,6$ cm es la base del triángulo.

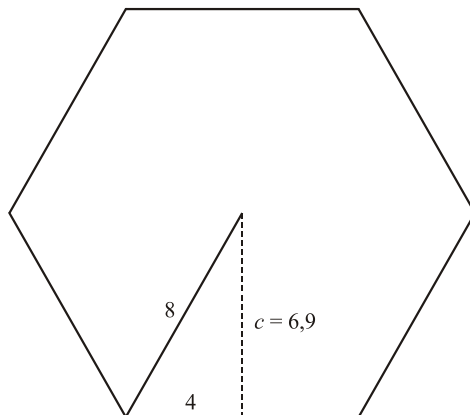
$$\text{Área del sector circular: } S = \frac{\pi \cdot r^2 \cdot n}{360} = \frac{3,14 \cdot 3^2 \cdot 135}{360} = 10,6 \text{ cm}^2$$

$$\text{Área del triángulo: } S = \frac{b \cdot a}{2} = \frac{5,6 \cdot 1,15}{2} = 3,2 \text{ cm}^2$$

Así, el área del segmento es: $10,6 - 3,2 = 7,4 \text{ cm}^2$

14. Calcula el área y el perímetro de un hexágono regular de 8 cm de lado.

Solución:



$$c^2 = a^2 - b^2 \rightarrow c^2 = 8^2 - 4^2 \rightarrow c = 6,9 \text{ cm}$$

Así,

$$\text{Perímetro} = 8 \cdot 6 = 48 \text{ cm}$$

$$\text{Área} = \frac{P \cdot a}{2} = \frac{48 \cdot 6,9}{2} = 165,6 \text{ cm}^2$$